

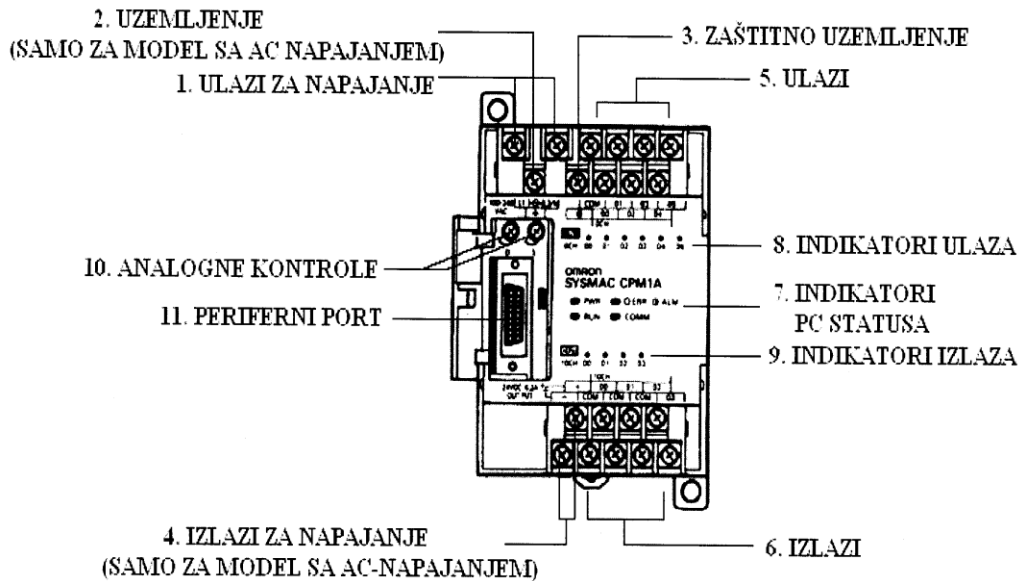
# Основе аутоматског управљања IV-4 и IV-5

## Лабораторијска вежба

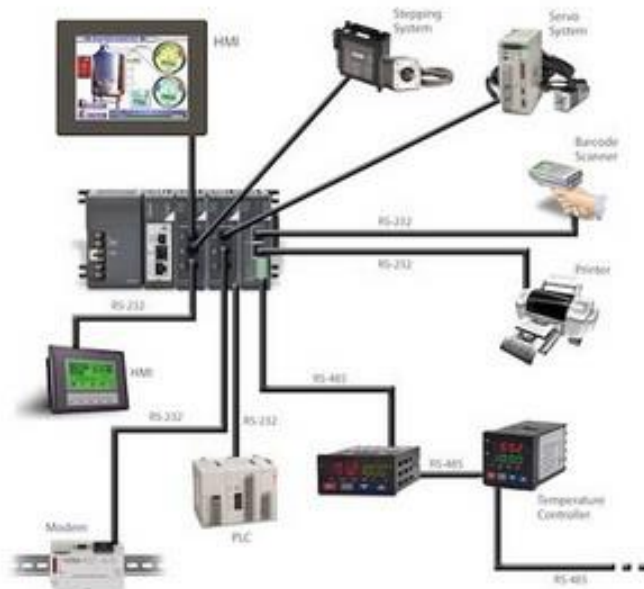
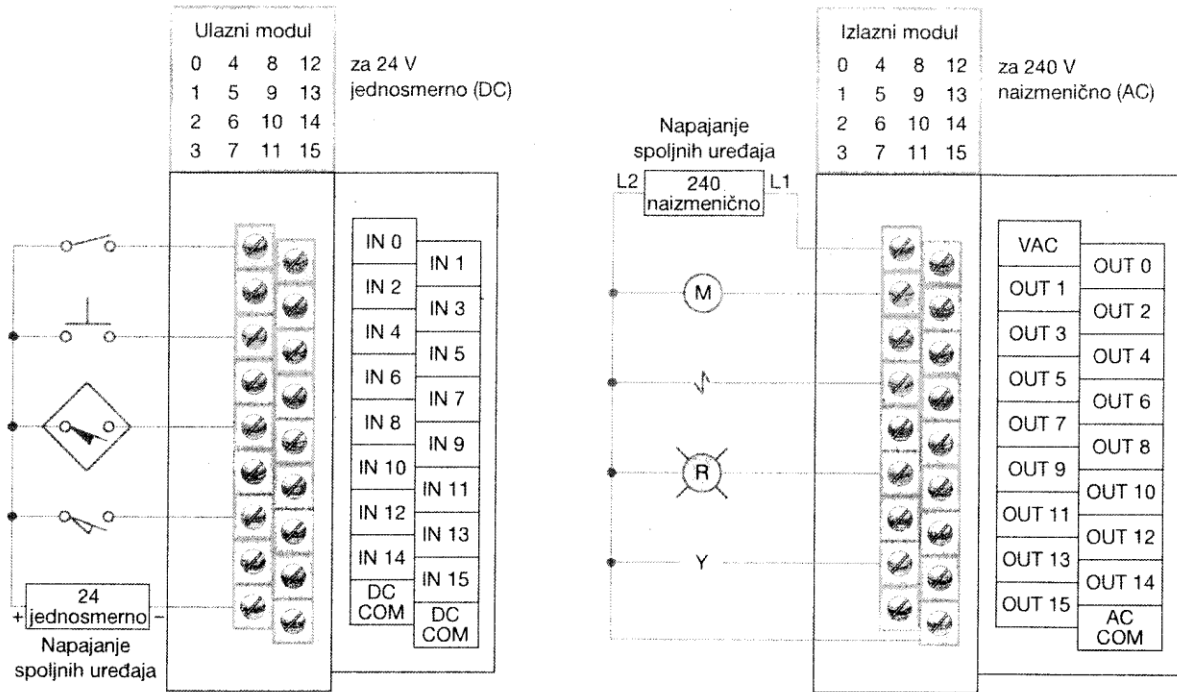
Назив вежбе: **Повезивање PLC-а**

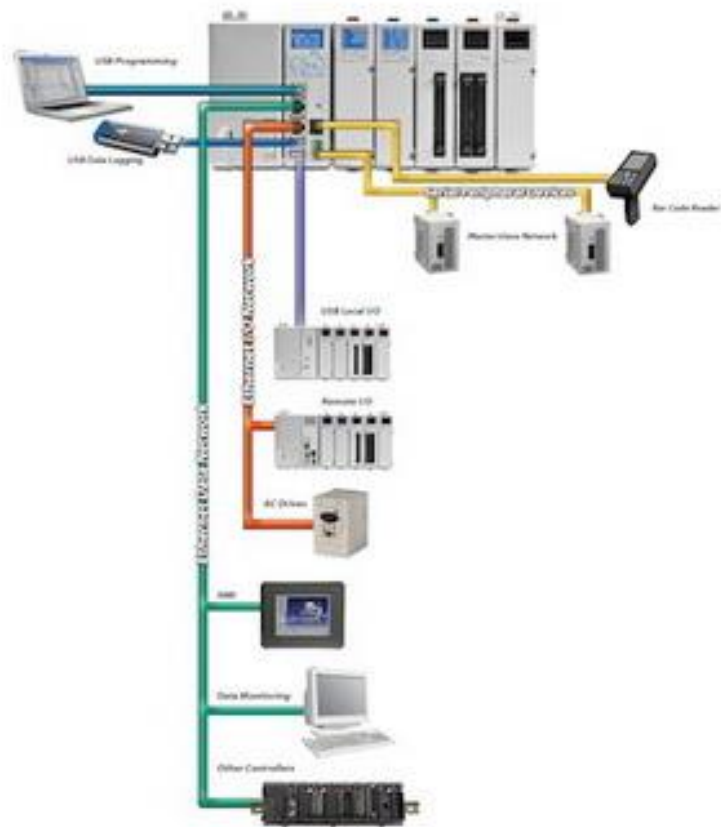
Задатак вежбе:

1. На **PLC-у** уочити места за прикључивање улазних и излазних уређаја.
2. На **PLC-у** уочити места за прикључивање са рачунаром
3. На **PLC-у** уочити места за прикључивање на напајање.



Типичан начин повезивања **PLC-a** са улазним и излазним уређајима:





*Прегледати:*

**[Programmable Logic Controller PLC](#)**

*[elektronika.elfak.ni.ac.rs](#) › [FILES](#) › [plc 2013 a1](#)*

**[Konstrukcija PLC-a - Inženjerski portal Balkana - Automatika.rs](#)**

*[www.automatika.rs](#) › [Baza znanja](#) › [Tutorijali](#)*

**Домаћи задатак:**

1. Користећи наставни материјал **Окружење ПЛЦ-а** , улази и излази ПЛЦ-а набројати улазне и излазне елементе са горе наведених слика.

За све недоумице јавити се предметном наставнику на e-mail:

**[milutinperovic2020@gmail.com](mailto:milutinperovic2020@gmail.com)**